The background features a detailed historical map of the Balearic Islands, showing 'MARE INSULAE BALEARIDES' and 'INS. MINORCA'. A thick, light-colored rope is draped across the map, and a brass compass with a blue and gold face is positioned in the lower-left corner. The main title is centered in a white box with a black border.

«По следам экспедиции Крузенштерна»

викторина, посвященная 220-летию первой русской
кругосветной экспедиции под руководством И.Ф.
Крузенштерна


1 ВОПРОС



Где родился будущий адмирал, и на территории какого современного государства находится сейчас место рождения И. Ф. Крузенштерна?

- А) Россия
- Б) Германия
- В) Эстония
- Г) Дания

2 ВОПРОС



Настоящее имя адмирала и мореплавателя – Адам Иоганн фон Крузенштерн. Откуда взялось имя Иван?

А. Придумали сверстники.

Б. Дали при крещении

В. Поменял при поступлении в кадетский корпус

3 ВОПРОС

Морской кадетский корпус в Санкт-Петербурге



Какое звание получил И.Ф. Крузенштерн после окончания Морского кадетского корпуса?

А. Мичман

Б. Старшина 1-й статьи

В. лейтенант

4 ВОПРОС

Из какого города вышли суда
И.Ф. Крузенштерна и Ю.Ф.
Лисянского?

А. Выборг

Б. Кронштадт

В. Приморск

Г. Санкт - Петербург



5 ВОПРОС

Как назывались корабли, на которых И.Ф. Крузенштерн отправился в путешествие:

А. «Нева»

Б. «Юнона»

В. «Паллада»

Г. «Надежда»



6 ВОПРОС



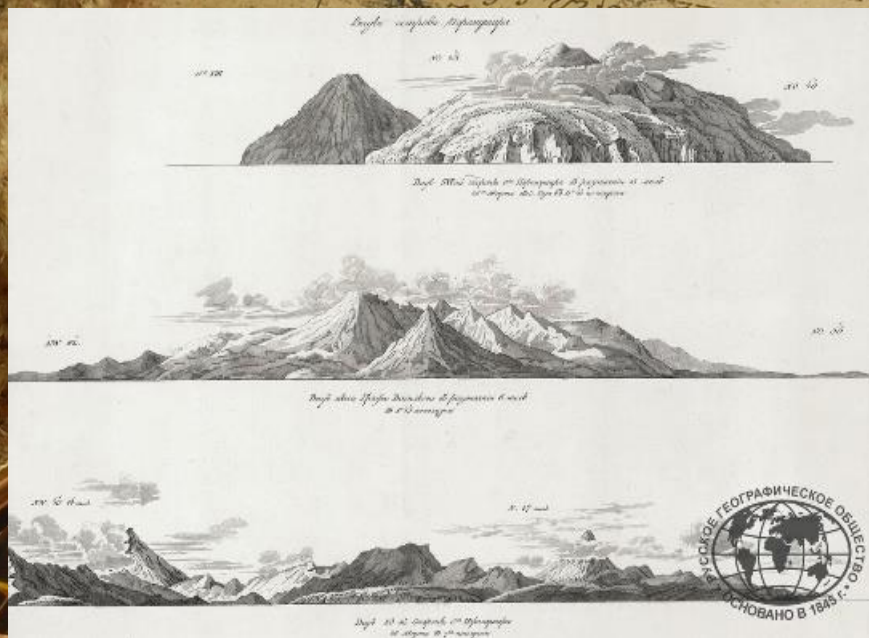
Кто вместе с Крузенштерном
на корабле «Нева» совершил
первое кругосветное
путешествие?

А. Семен Дежнев

Б. Афанасий Никитин

В. Ю. Ф. Лисянский

7 ВОПРОС



Атлас какого океана был
впервые составлен И.Ф.
Крузенштерном

А. Тихого

Б. Атлантического

В. Индийского

Г. Северного Ледовитого
океана

8 ВОПРОС



До какого звания дослужился
И.Ф. Крузенштерн

А. Адмирала

Б. Контр - адмирала

В. Генерал - адмирала

Г. Генерала

9 ВОПРОС



Какое удивительное природное явление было впервые открыто экспедицией И.Ф. Крузенштерна

А. Айсберги

Б. Летучие рыбы

В. Свечение моря

10 ВОПРОС

Какая из задач экспедиции не была выполнена?

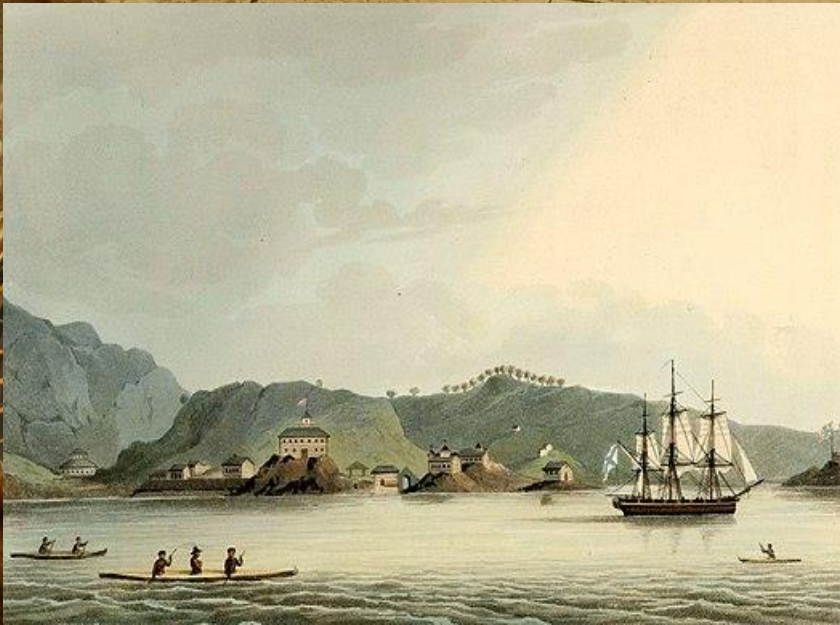
А. Совершить первое кругосветное плавание в истории российского флота

Б. Доказать выгоду морского пути из Русской Америки в Петербург в сравнении с наземным.

В. Доставить – забрать товары из русской Америки.

Г. Провести различные географические наблюдения и научные исследования по маршруту экспедиции.

Д. Установить дипломатические отношения с Японией



11 ВОПРОС



Что взял с собой в путешествие И.Ф. Крузенштерн

А. Спаниеля

Б. Подзорную трубу


В. Карту Атлантики

Г. 2 двухпудовые гири

12 ВОПРОС


В свой экипаж И.Ф. Крузенштерн набрал только русских моряков. Почему?

- А. Они понимали язык, на котором разговаривал капитан.**
- Б. Он считались самыми опытными мореплавателями.**
- В. Они одинаково хорошо переносили жару и холод**



*Видъ на берегъ Надежды въ северной части Сибири.
Анкетъ для Батъ Крузенштерна въ Сибиріи.*

13 ВОПРОС



Моряки в Океании сделали себе татуировки. Какую татуировку сделал себе И.Ф. Крузенштерн?

А. Скорпиона

Б. Надпись «Надежда»

В. Надпись «Юлия»

Г. Корабль



14 ВОПРОС



В каком году русские мореплаватели пересекли экватор?

А. 1803

Б. 1804

В. 1805

Г. 1806

15 ВОПРОС



Находясь почти у мыса
Доброй Надежды пути
шлюпа «Надежда» под
командованием
И.Ф. Крузенштерна
и второго корабля, «Нева»
под командованием
Лисянского, разошлись.
Почему?

- А. Капитаны поссорились*
- Б. Плохая погода, шторм*
- В. «Нева» вернулась домой.*

16 ВОПРОС



Сколько дней команда Крузенштерна пробыла на базе Таиохаэ.


А. 3

Б. 11

В. 13

Г. 7

17 ВОПРОС




Навстречение Японского купеческого судна «Надежда».

3 марта 1804 года корабли обогнул
и мыс горн в какую страну отправился
корабль «Надежда»

- А. Япония
- Б. Англия
- В. Бразилия

18 ВОПРОС



Вид с высоты на бухту Кап-де-Буа на острове Мендана.

Сколько лет продолжалось первое кругосветное плавание?

А. 1 год

Б. 2 года

В. 3 года

Г. 4 года

19 ВОПРОС



Какой корабль вернулся в порт раньше?

А. «Нева»

Б. «Надежда»

В. Вернулись оба корабля одновременно.

20 ВОПРОС

Какие объекты носят имя
Крузенштерна?

- А. Кратер на Луне
- Б. Остров
- В. Пролив
- Г. Улица



21 ВОПРОС

Крузенштерн опубликовал описание своего путешествия и составил двухтомный атлас Тихого океана. Впервые было нанесено на карту более тысячи километров берега самого большого острова России. Как назывался этот остров?

- А. Валаам
- Б. Кильпола
- В. Сахалин



Атлас
к путешествию вокруг света
капитана Крузенштерна



Atlas
of Captain Krusenstern's Voyage
Around the World

